

HODNOCENÍ VÝSLEDKŮ VZDĚLÁVÁNÍ ŽÁKŮ 5. ROČNÍKŮ ZŠ 2006

Záznamový arch k testovému sešitu

MATEMATICKÉ DOVEDNOSTI

A

Pole k nalepení čárového kódu



Pokud nemáte ID štítek s čárovým kódem, čitelně vepište:

IZO školy

Jméno a příjmení (hůlkovým písmem) Třída

Datum narození den měsíc rok

1

1.1

$$\begin{array}{r} 437 \\ -154 \\ \hline \square\square\square \end{array}$$

12 2 11 1
50 0 99 N
U110

1.2

$$\begin{array}{r} 128 \\ \times 65 \\ \hline \square\square\square \\ 768 \\ \hline \square\square\square\square \end{array}$$

12 2 11 1
50 0 99 N
U120

1.3

$$19208:8 = \square\square\square\square$$

12 2 11 1
50 0 99 N
U130

2

2.1

$$8 \cdot \square = 40$$

11 1
50 0 99 N
U210

2.2

$$8 + 8 \cdot \square = 40$$

12 2 11 1
50 0 99 N
U220

2.3

$$8 \cdot \left(8 - \square \right) = 40$$

12 2 11 1
50 0 99 N
U230



Centrum pro zjišťování
výsledků vzdělávání
CERMAT

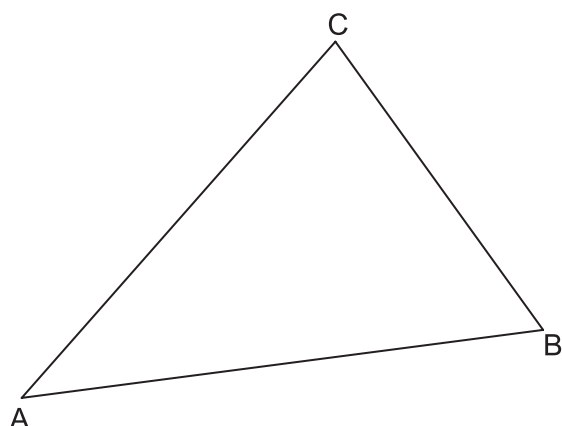


MA1ACZZ506DT1)

Kód testu
MA1ACZZ506DT
Strana 1/4

MATEMATICKÉ DOVEDNOSTI A

3



12 2 11 1
50 O 99 N
U310

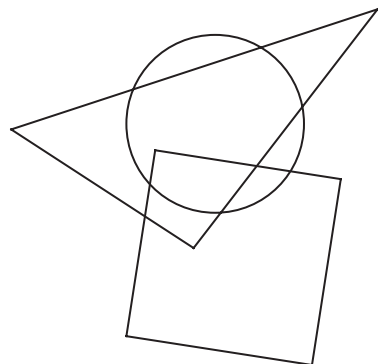
12 2 11 1
50 O 99 N
U320

11 1
50 O 99 N
U330

4

4.1

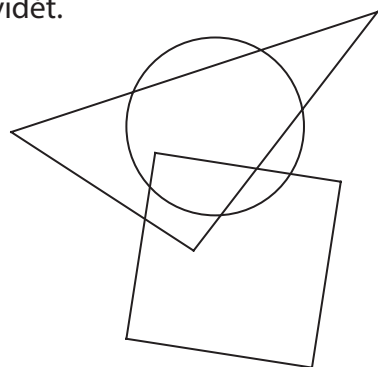
Vybarvěte všechny části kruhu, které jsou shora vidět.



12 2 11 1
50 O 99 N
U410

4.2

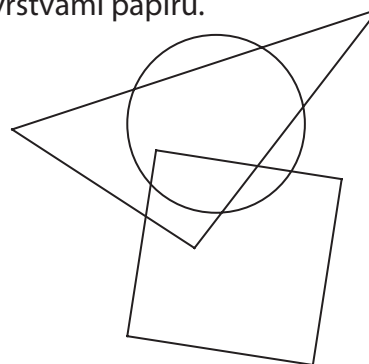
Vybarvěte všechny části trojúhelníku, které shora **nejsou** vidět.



12 2 11 1
50 O 99 N
U420

4.3

Vybarvěte všechny části, které jsou tvořeny pouze dvěma vrstvami papíru.



12 2 11 1
50 O 99 N
U430

MATEMATICKÉ DOVEDNOSTI A

5

Výpočet:

Odpověď (celou větou):

13 3
12 2 11 1
50 0 99 N
USO

6

Zaokrouhlení na stovky:

490 ÷

1509 ÷

1954 ÷

Celkem:

Odpověď (celou větou):

13 3
12 2 11 1
50 0 99 N
U60



MA1ACZZ506DT26

Kód testu
MA1ACZZ506DT
Strana 3/4

MATEMATICKÉ DOVEDNOSTI A

7

Výpočet:

Odpověď (celou větou):

13
12 11
50 99
U70

	A	B	C	D
8	<input type="text" value="A"/>	<input type="text" value="B"/>	<input type="text" value="C"/>	<input type="text" value="D"/>
9	<input type="text" value="A"/>	<input type="text" value="B"/>	<input type="text" value="C"/>	<input type="text" value="D"/>
10	<input type="text" value="A"/>	<input type="text" value="B"/>	<input type="text" value="C"/>	<input type="text" value="D"/>

	ANO	NE
11		
11.1	<input type="text" value="A"/>	<input type="text" value="N"/>
11.2	<input type="text" value="A"/>	<input type="text" value="N"/>
11.3	<input type="text" value="A"/>	<input type="text" value="N"/>

	ANO	NE
12		
12.1	<input type="text" value="A"/>	<input type="text" value="N"/>
12.2	<input type="text" value="A"/>	<input type="text" value="N"/>
12.3	<input type="text" value="A"/>	<input type="text" value="N"/>