

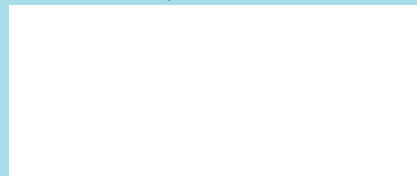
HODNOCENÍ VÝSLEDKŮ VZDĚLÁVÁNÍ ŽÁKŮ 9. TŘÍD 2006

Záznamový arch k testovému sešitu

MATEMATICKÉ DOVEDNOSTI

A

Pole k nalepení čárového kódu



Pokud nemáte ID štítek s čárovým kódem, čitelně vepište:

IZO školy

Jméno a příjmení (hůlkovým písmem)

Třída

Datum narození

den měsíc rok

1
1.1

$$\frac{30}{120} = \frac{\square}{16}$$

12 2
50 O 99 N
U110

1.3

$$2 < \frac{\square}{2} < \frac{11}{\square} < 3$$

12 2 11 1
50 O 99 N
U130

1.2

$$0,28 = \frac{7}{\square}$$

12 2
50 O 99 N
U120

CERMAT

Centrum pro zjišťování výsledků vzdělávání



MA1ACZZ906DT11

Kód testu
MA1ACZZ906DT
Strana 1/4

MATEMATICKÉ DOVEDNOSTI A

2

2.1

$$y + \frac{9-y}{2} = 0$$

Řešení:

13
12 11
50 99
U210

2.2

$$3 - (2x - 1) = 4$$

Řešení:

13
12 11
50 99
U220

3

Počet minut (m)		20	30	
Počet dotazníků (d)	6	8		20

13
12 11
50 99
U30

4

Počet osob (o)	4			12
Počet dnů (d)	6	4	3	

13
12 11
50 99
U40

MATEMATICKÉ DOVEDNOSTI A

5

5.1

Na dráze platí plnou cenu za jízdné každý cestujících.

12 2 11 1
50 0 99 N
U510

5.2

Na dráze jezdí pravidelně procent všech cestujících.

12 2 11 1
50 0 99 N
U520

5.3

..... procent všech cestujících nejedí pravidelně dráhou,
ale přesto využívá slev.

12 2 11 1
50 0 99 N
U530

6

Řešení:

Jízdenka bez slevy by stála korun.

13 3
12 2 11 1
50 0 99 N
U60



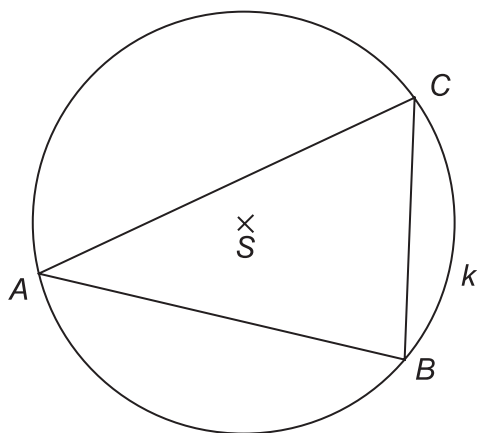
MA1ACZZ906DT2V

Kód testu
MA1ACZZ906DT
Strana 3/4

MATEMATICKÉ DOVEDNOSTI A

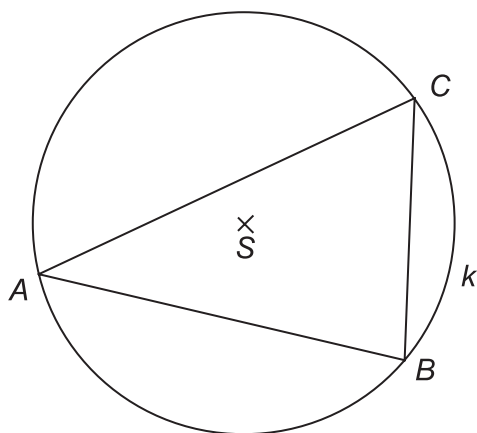
7

7.1 Rýsujte



13
12 11
50 99
U710

7.2 Rýsujte



12 11
50 99
U720

8 ANO NE
8.1
8.2
8.3
8.4

	A	B	C	D
9	<input type="text" value="A"/>	<input type="text" value="B"/>	<input type="text" value="C"/>	<input type="text" value="D"/>
10	<input type="text" value="A"/>	<input type="text" value="B"/>	<input type="text" value="C"/>	<input type="text" value="D"/>
11	<input type="text" value="A"/>	<input type="text" value="B"/>	<input type="text" value="C"/>	<input type="text" value="D"/>
12	<input type="text" value="A"/>	<input type="text" value="B"/>	<input type="text" value="C"/>	<input type="text" value="D"/>
13	<input type="text" value="A"/>	<input type="text" value="B"/>	<input type="text" value="C"/>	<input type="text" value="D"/>

Kód testu
MA1ACZZ906DT
Strana 4/4