

# HODNOCENÍ VÝSLEDKŮ VZDĚLÁVÁNÍ ŽÁKŮ 5. ROČNÍKŮ ZŠ 2006

Záznamový arch k testovému sešitu

## MATEMATICKÉ DOVEDNOSTI

# B

Pole k nalepení čárového kódu



Pokud nemáte ID štítek s čárovým kódem, čitelně vepište:

IZO školy

Jméno a příjmení (hůlkovým písmem) Třída

Datum narození  den  měsíc  rok

1

1.1

$$\begin{array}{r} 428 \\ -156 \\ \hline \square\square\square \end{array}$$

12  2  11  1  
50  0  99  N  
U110

1.2

$$\begin{array}{r} 128 \\ \times 56 \\ \hline 768 \\ \square\square\square \\ \hline \square\square\square\square \end{array}$$

12  2  11  1  
50  0  99  N  
U120

1.3

$$16206:6 = \square\square\square\square$$

12  2  11  1  
50  0  99  N  
U130

2

2.1

$$6 \cdot \square = 48$$

11  1  
50  0  99  N  
U210

2.2

$$6 \cdot \square - 6 = 48$$

12  2  11  1  
50  0  99  N  
U220

2.3

$$\left( 6 + \square \right) \cdot 6 = 48$$

12  2  11  1  
50  0  99  N  
U230



Centrum pro zjišťování  
výsledků vzdělávání  
CERMAT

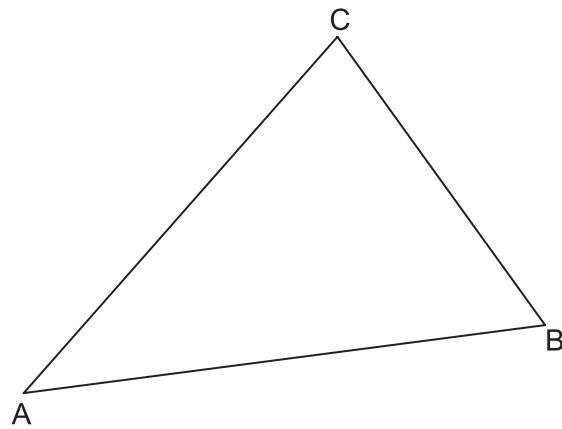


MA2ACZZ506DT1,

Kód testu  
MA2ACZZ506DT  
Strana 1/4

# MATEMATICKÉ DOVEDNOSTI B

3



12  2  11  1   
50  O  99  N   
U310

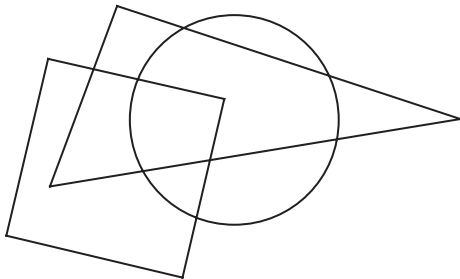
12  2  11  1   
50  O  99  N   
U320

11  1   
50  O  99  N   
U330

4

4.1

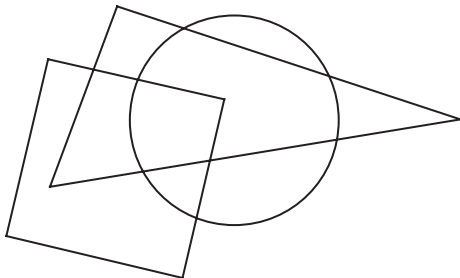
Vybarvěte všechny části kruhu, které jsou shora vidět.



12  2  11  1   
50  O  99  N   
U410

4.2

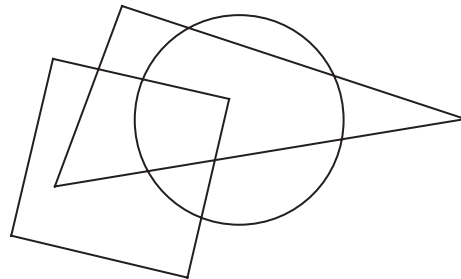
Vybarvěte všechny části trojúhelníku, které shora **nejsou** vidět.



12  2  11  1   
50  O  99  N   
U420

4.3

Vybarvěte všechny části, které jsou tvořeny pouze dvěma vrstvami papíru.



12  2  11  1   
50  O  99  N   
U430

## MATEMATICKÉ DOVEDNOSTI B

5

Výpočet:

Odpověď (celou větou):

13 3  
12 2 11 1  
50 0 99 N  
USO

6

**Zaokrouhlení na stovky:**

$$360 \doteq$$

$$954 \doteq$$

$$\underline{1409 \doteq}$$

**Celkem:**

Odpověď (celou větou):

13 3  
12 2 11 1  
50 0 99 N  
U60



MA2ACZZ506DT29

Kód testu  
MA2ACZZ506DT  
Strana 3/4

# MATEMATICKÉ DOVEDNOSTI B

7

Výpočet:

Odpověď (celou větou):

13   
12  11   
50  99   
U70

	A	B	C	D
8	<input type="text" value="A"/>	<input type="text" value="B"/>	<input type="text" value="C"/>	<input type="text" value="D"/>
9	<input type="text" value="A"/>	<input type="text" value="B"/>	<input type="text" value="C"/>	<input type="text" value="D"/>
10	<input type="text" value="A"/>	<input type="text" value="B"/>	<input type="text" value="C"/>	<input type="text" value="D"/>

	ANO	NE
11		
11.1	<input type="text" value="A"/>	<input type="text" value="N"/>
11.2	<input type="text" value="A"/>	<input type="text" value="N"/>
11.3	<input type="text" value="A"/>	<input type="text" value="N"/>

	ANO	NE
12		
12.1	<input type="text" value="A"/>	<input type="text" value="N"/>
12.2	<input type="text" value="A"/>	<input type="text" value="N"/>
12.3	<input type="text" value="A"/>	<input type="text" value="N"/>