

Konal(a) zkoušku

Vyloučen(a)

Nepřítomen(na) či nedokončil(a)

MATEMATIKA 7

List 1 ze 2

Jméno a
příjmení

Evidenční
číslo

Časový limit: 60 min.

DIDAKTICKÝ TEST - STRANA 1-4

1 Uvedte celý výpočet.

2 Uvedte celý výpočet.

2.1

2.2

3 Uvedte celý výpočet.

3.1

3.2

4

5

6

Uvedte postup řešení.

6.1

6.2

7

Uvedte postup řešení.

7.1

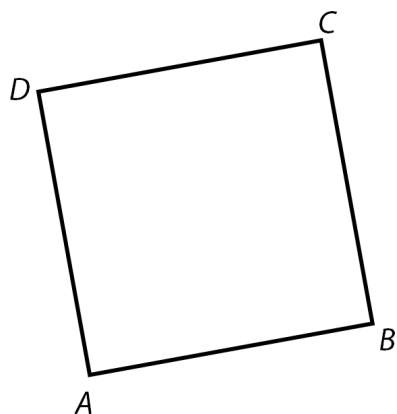
7.2

8

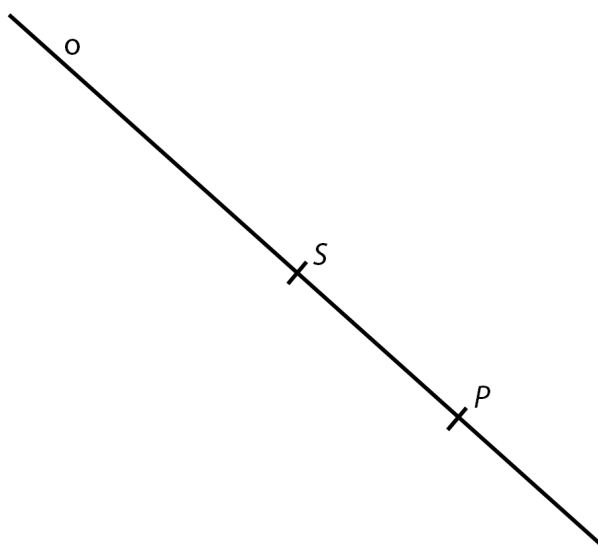
8.1

8.2

- 9 Obtáhněte všechny čáry propisovací tužkou.



- 10 Obtáhněte všechny čáry propisovací tužkou.



11 A N

11.1

11.2

11.3

12 A N

12.1

12.2

12.3

A B C D E

13

14

15

16 A B C D E F

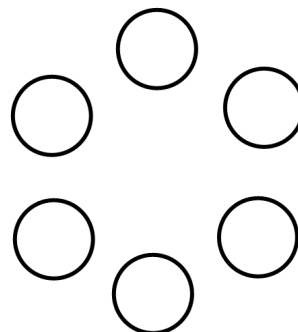
16.1

16.2

16.3

17 Uvedte výsledek a nákres.

17.1



17.2

