

Konal(a) zkoušku

Vyloučen(a)

Nepřítomen(na) či nedokončil(a)

# MATEMATIKA +

List 1 ze 2

Časový limit: 150 min.

## DIDAKTICKÝ TEST - STRANA 1-4

1

2

3

4

Uvedte postup řešení.

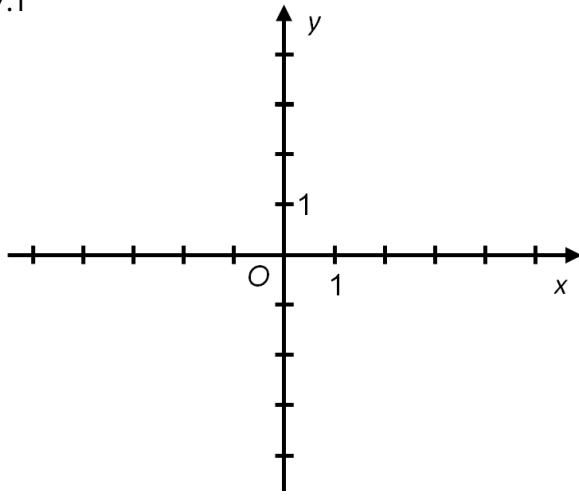
5

6

7

7.1

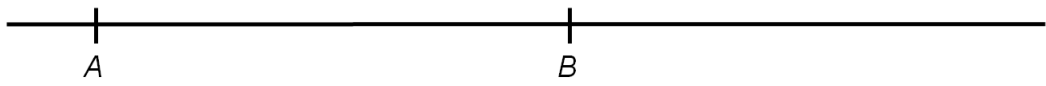
7.2



7.3

8

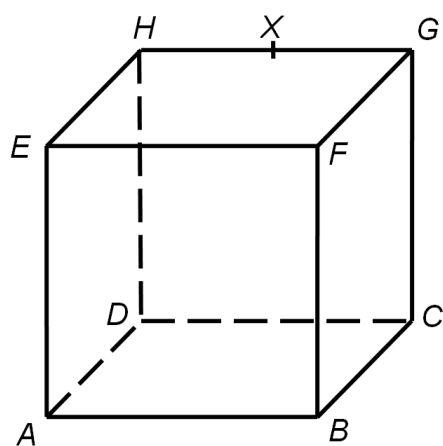
$\times M$



9

Blank area for the solution to problem 9.

10



11

Uvedte postup řešení.

Blank area for the solution to problem 11.

12

Uvedte postup řešení.

13 A B C D E

13.1

13.2

13.3

A B C D E

14.1

14.2

14.3

A B C D E

15

16

A B C D E

17

18

19

20

21

22

23 A N

23.1

23.2

23.3