

# OBČANSKÝ A SPOLEČENSKOVĚDNÍ ZÁKLAD

základní úroveň obtížnosti

OZMZD11C0T03

## DIDAKTICKÝ TEST

Maximální bodové hodnocení: 94 bodů  
Hranice úspěšnosti: 33 %

### 1 Základní informace k zadání zkoušky

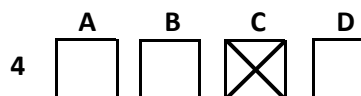
- Didaktický test obsahuje 45 úloh.
- Časový limit pro řešení didaktického testu je uveden na záznamovém archu.
- Povolené pomůcky: pouze psací potřeby.
- U každé úlohy je uveden maximální počet bodů.
- U všech úloh/podúloh je právě jedna odpověď správná.
- Za nesprávnou nebo neuvedenou odpověď se body neodečítají.
- Odpovědi píšete do záznamového archu.
- Poznámky si můžete dělat do testového sešitu, nebudou však předmětem hodnocení.
- Nejednoznačný nebo nečitelný zápis odpovědi bude považován za chybné řešení.

### 2 Pravidla správného zápisu odpovědí

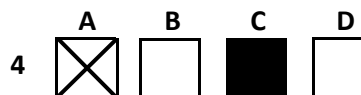
- Odpovědi zaznamenávejte modrou nebo černou propisovací tužkou, která píše dostatečně silně a nepřerušovaně.
- Hodnoceny budou pouze odpovědi uvedené v záznamovém archu.

### 2.1 Pokyny k uzavřeným úlohám

- Odpověď, kterou považujete za správnou, zřetelně zakřížkujte v příslušném bílém poli záznamového archu, a to přesně z rohu do rohu dle obrázku.



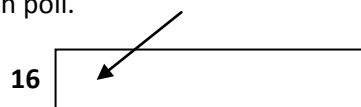
- Pokud budete chtít následně zvolit jinou odpověď, zabarvíte pečlivě původně zakřížkované pole a zvolenou odpověď vyznačíte křížkem do nového pole.



- Jakýkoli jiný způsob záznamu odpovědí a jejich oprav bude považován za nesprávnou odpověď.
- Pokud zakřížkujete více než jedno pole, bude vaše odpověď považována za nesprávnou.

### 2.2 Pokyny k otevřeným úlohám

- Odpovědi píšete čitelně do vyznačených bílých polí.



- Povoleno je psací i tiskací písmo a číslice.
- Při psaní odpovědí rozlišujte velká a malá písmena.
- Pokud budete chtít následně zvolit jinou odpověď, pak původní odpověď přeškrtněte a novou odpověď запиšte do stejného pole. Vaše odpověď nesmí přesáhnout hranice vyznačeného pole.

**Testový sešit neotvírejte, počkejte na pokyn!**

2 body

1 Který z následujících výroků nejlépe charakterizuje asertivitu?

- A) Je důležité hlavně jasně sdělit své názory.
- B) Je lepší ustoupit, než se pouštět do hádek.
- C) Je nutné prosadit svůj názor jakýmkoli způsobem.
- D) Je dobré pozorovat situaci a do sporů nezasahovat.

---

## VÝCHOZÍ TEXT K ÚLOZE 2

Fabienne: „Čí je to motorka?“  
Butch: „To není motorka, miláčku. To je chopper.“  
Fabienne (překvapeně): „A čí je teda ten chopper?“  
Butch (lhostejně): „Zeda.“  
Fabienne (se zájmem): „A kdo je Zed?“  
Butch (lhostejně): „Zed je mrtvý, láska.“

(Přepis dialogu z filmu *Pulp Fiction: Historky z podsvětí*, 1994)

2 body

2 Který z následujících typů temperamentu nejvíce odpovídá postavě Butche ve výchozím dialogu?

- A) choleric
- B) flegmatik
- C) sangvinik
- D) melancholik

2 body

3 Který z následujících výroků o masmédiích není pravdivý?

- A) Relativizují prostorovou vzdálenost událostí.
- B) Dodávají událostem společenskou důležitost.
- C) Nastavují společenskou normu chování a jednání.
- D) Poskytují příjemcům všechny relevantní informace.

---

## VÝCHOZÍ TEXT K ÚLOZE 4

Petr přesvědčuje Michala, aby si připravili tahák pro důležitou zkoušku. Michal to však odmítá. Je to podvod a on si nechce narušit karmu.

(CERMAT)

2 body

4 Jakého náboženského vyznání je pravděpodobně Michal?

- A) muslim
- B) animista
- C) jehovista
- D) buddhista

## VÝCHOZÍ TEXT K ÚLOZE 5

Brainstorming je technika, která se využívá při řešení konkrétního problému ve skupinové práci. Staví na posilování intuitivních a náhodných složek myšlení a na odložení kritického náhledu na pozdější fáze práce. Cílem je uvolnění podvědomých procesů, odstranění zábrán a uvolnění fantazie, smích je dovolen. Výsledkem jsou netradiční nápady a řešení.

(www.andra.cz, upraveno)

2 body

5 Který z následujících psychických jevů se především využívá při brainstormingu?

- A) paměť
- B) emoce
- C) kreativita
- D) temperament

## VÝCHOZÍ TEXT K ÚLOZE 6

Dne 22. července 2011 se koná v Obecním domě, nám. Republiky 5, Praha 1  
od 11.00 do 16.00 hod.  
přednáška

### ČLOVĚK A JEHO PROSTŘEDÍ

Program:

#### I. My a prostředí

(přednášející: RNDr. Jan Vláčil, Ministerstvo životního prostředí ČR)

Workshop – problémy životního prostředí kolem nás.

#### II. Kolik nás je?

(přednášející: doc. PhDr. Lucie Svobodová, UK Praha)

Prezentace počtu obyvatel hl. m. Prahy.

#### III. Moderní člověk jako městský člověk – urbanizace

(přednášející: doc. PhDr. Václav Suchánek, PhD., Akademie věd ČR)

Diskuse na téma mladý člověk ve velkoměstě.

(CERMAT)

2 body

6 Která z následujících společenských věd nejspíše odpovídá obsahu přednášek popsaných ve výchozím textu?

- A) sociologie
- B) politologie
- C) pedagogika
- D) andragogika

### VÝCHOZÍ TEXT K ÚLOZE 7

Lidé se shromáždili na místě neštěstí a sledovali práci hasičů a záchranářů.

(CERMAT)

**2 body**

**7 Který z následujících typů davu odpovídá situaci ve výchozím textu?**

- A) náhodný
- B) expresivní
- C) nezákonný
- D) strukturovaný

---

### VÝCHOZÍ TEXT K ÚLOZE 8

Tereza již uchopuje menší předměty a začíná žvatlat. Pokouší se již pomalu lézt po čtyřech. Je již schopná rozlišit známé osoby, především matku, otce a sourozence.

(CERMAT)

**2 body**

**8 Napište název vývojového období popsaného ve výchozím textu:**

---

### VÝCHOZÍ TEXT K ÚLOZE 9

\*\*\*\*\* je zájem o druhé, schopnost porozumět jim, podívat se na situaci z jejich hlediska, popřípadě se přímo vcítit.

(J. Čáp, *Psychologie výchovy a vyučování, upraveno*)

**2 body**

**9 Napište jednoslovný odborný název schopnosti, která patří na vynechané místo (\*\*\*\*\*) ve výchozím textu:**

## VÝCHOZÍ TEXT K ÚLOZE 10

Děti, které vyrůstají v dětských domovech, trpí i v dospělosti následky psychické deprivace. Přestože je o děti správně postaráno a jsou uspokojeny i jejich fyziologické potřeby, nemůžou navázat hluboký vztah k jedné konkrétní mateřské osobě, neboť pečovatelek a vychovatelek je vždy více a u dětí se střídají. Následkem toho není u dětí dostatečně uspokojována potřeba lásky a bezpečí. Část dětí se v dospělosti s tímto deficitem vyrovná, větší část jich není schopna navázat hlubší partnerský vztah a kompenzuje si tento nedostatek náhradními aktivitami (např. drogovou závislostí, promiskuitou nebo přejídáním).

(Z. Matějček, Co děti nejvíce potřebují, upraveno)

max. 2 body

### 10 Rozhodněte o každém z následujících tvrzení, zda přímo vyplývá z výchozího textu (ANO), či nikoli (NE):

- |   | A                        | N                        |
|---|--------------------------|--------------------------|
| 10.1 Hlavní vinu za následky deprivace nesou pečovatelky a vychovatelky dětí.           | <input type="checkbox"/> | <input type="checkbox"/> |
| 10.2 Pokud jsou uspokojeny primární potřeby dětí, nemohou trpět psychickou deprivací.   | <input type="checkbox"/> | <input type="checkbox"/> |
| 10.3 U deprivovaných dětí je větší pravděpodobnost výskytu sociálně patologických jevů. | <input type="checkbox"/> | <input type="checkbox"/> |

## VÝCHOZÍ TEXT K ÚLOZE 11

Marta své sousedy příliš neznala, ale často slýchala z jejich bytu pláč a křik ženy. Asi třikrát ji potkala na chodbě a vždy si všimla modřin na jejím obličejí.

(CERMAT)

max. 2 body

### 11 Rozhodněte o každém z následujících tvrzení, zda je projevem autonomní morálky (ANO), či nikoli (NE):

- |  | A                        | N                        |
|--|--------------------------|--------------------------|
| 11.1 Marta nabídla ženě ze sousedního bytu svou pomoc, protože si byla vědoma její zoufalé situace.  | <input type="checkbox"/> | <input type="checkbox"/> |
| 11.2 Marta zavolala policii, protože se bála, že když situaci v sousedním bytě nenahlásí, stane se spoluvíníkem případného trestného činu.   | <input type="checkbox"/> | <input type="checkbox"/> |
| 11.3 Marta se obrátila na svého přítele – psychologa, aby si se ženou ze sousedního bytu diskrétně promluvil o její situaci. Uvědomovala si, že sama nedokáže problém vyřešit, ale nemohla ani násilí přehlížet. | <input type="checkbox"/> | <input type="checkbox"/> |

max. 3 body

**12 Přiřadte k jednotlivým druhům rodiny (12.1–12.4) odpovídající situaci (A–E):**

- 12.1 neúplná rodina \_\_\_\_\_  
12.2 adoptivní rodina \_\_\_\_\_  
12.3 pěstounská rodina \_\_\_\_\_  
12.4 vícegenerační rodina \_\_\_\_\_

- A) Evelína žije jen s maminkou, tatínek při dopravní nehodě zemřel.  
B) Helena a Jirka jsou rádi, že kromě rodičů s nimi v bytě bydlí i babička s dědou.  
C) Dana a Radek se už nemohou dočkat, až Dana porodí očekávaná dvojčata a budou spokojená rodina.  
D) Daniel bude 3 roky vyrůstat v rodině sousedů, kteří se ho ujali na dobu, kdy bude jeho matka ve vězení.  
E) Matyáš konečně vyrůstá v rodině a největší radost má z nového rodného listu, který je tečkou za minulostí.

max. 2 body

**13 Přiřadte k jednotlivým charakteristikám finančních produktů (13.1–13.3) odpovídající název (A–D):**

- 13.1 Je dlouhodobým úvěrem, jehož účelem je většinou pořízení bydlení. Klient poskytuje záruku nemovitostí. \_\_\_\_\_  
13.2 Slouží pro pořízení movitých i nemovitých věcí a váže se na financovaný předmět. Financovaný předmět je po celou dobu majetkem financující společnosti. \_\_\_\_\_  
13.3 Nabízí možnost rozumně a bez rizika zhodnotit volné finanční prostředky. Nabízí vyšší úrokovou sazbu a peníze jsou prakticky dostupné okamžitě. \_\_\_\_\_

([www.financni-produkty.cz](http://www.financni-produkty.cz), upraveno)

- A) leasing  
B) hypotéka  
C) spořicí účet  
D) spotřebitelský úvěr

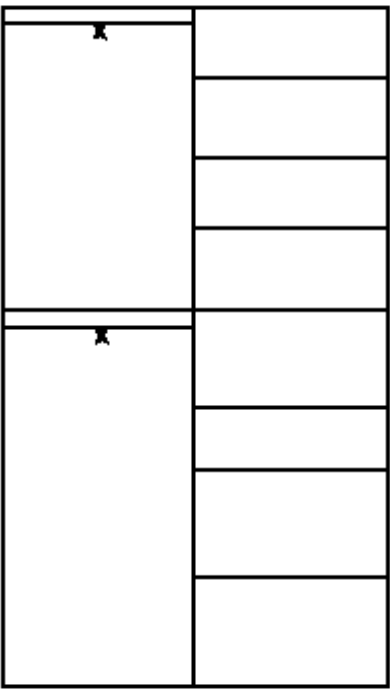
max. 2 body

**14 Přiřadte k jednotlivým formám sociální podpory (14.1–14.3) odpovídající instituci (A–E), kterou je třeba o danou podporu požádat:**

- 14.1 příspěvek na bydlení \_\_\_\_\_  
14.2 nárok na mateřskou dovolenou \_\_\_\_\_  
14.3 finanční pomoc po živelné pohromě \_\_\_\_\_

- A) Ministerstvo práce a sociálních věcí  
B) úřad práce – odbor státní sociální podpory  
C) Městská/Okresní správa sociálního zabezpečení  
D) pověřený obecní úřad (v Praze úřad městské části)  
E) finanční úřad příslušný místu trvalého bydliště fyzické osoby

## VÝCHOZÍ OBRÁZEK K ÚLOZE 15

<b>ZAKÁZKOVÁ VÝROBA, VÝROBA SKŘÍNÍ NA MÍRU</b> <b>Příklad kalkulace ceny šatní skříně.</b> (ceny jsou uvedeny bez DPH)			
<b>Návrh vzhledu skříně</b> 	<b>hloubka:</b> <b>60 cm</b>  <b>výška:</b> <b>270 cm</b>	<b>Materiál:</b>  Boky 2 kusy Police 8 kusů Stojka 1 kus Strop 1 kus Lišty 4 kusy Posuvné dveře 2 kusy  Těsnící kartáčky Dorazové sametky Šatní tyč 2 kusy  <hr/> Materiál celkem Montáž Plánovaný zisk  <hr/> <b>Celková cena</b>	<b>Cena celkem:</b> 2 200,- Kč 2 200,- Kč 1 000,- Kč 800,- Kč 600,- Kč 6 800,- Kč  100,- Kč 100,- Kč 200,- Kč  14 000,- Kč 1 400,- Kč 3 500,- Kč  <hr/> <b>18 900,- Kč</b>
<b>šířka: 150 cm</b> Konzultace, zaměření, kalkulace a doprava jsou zahrnuty v ceně skříní! <b>DŮCHODCŮM POSKYTUJEME SLEVOU VE VÝŠI 10 %.</b>			

(www.poluk.cz, upraveno)

**2 body**

**15 Kterou z následujících cenových strategií výrobce šatní skříně nepoužívá?**

- A) množstevní slevy
- B) diskriminační tvorba ceny
- C) důraz na komunikaci ceny bez DPH
- D) doplňkové zboží nebo služby „zdarma“

### VÝCHOZÍ TEXT K ÚLOZE 16

Technická univerzita ve Švédsku objevila a použila levnou a dostupnou náhradu za ropu, tuto náhradu lze navíc i snadno vyrobit.

(CERMAT)

**2 body**

**16** Které z následujících tvrzení o vývoji nabídky a poptávky na trhu s ropou vyplývá ze situace ve výchozím textu?

- A) Celková nabídka ropy prudce stoupne.
- B) Celková nabídka ropy prudce poklesne.
- C) Snížená poptávka po ropě bude tlačit ceny dolů.
- D) Snížená poptávka po ropě potáhne ceny vzhůru.

---

### VÝCHOZÍ TEXT K ÚLOZE 17

Dan Dolanský se rozhodl zahájit podnikání v oboru provozování cestovní kanceláře. Jeho cestovní kancelář bude fungovat pod názvem „CK Montes“ a její nabídka bude zaměřena především na vysokohorskou turistiku po celém světě.

(CERMAT)

**2 body**

**17** Kterou z následujících živností zakládá Dan Dolanský?

- A) volnou
- B) vázanou
- C) řemeslnou
- D) koncesovanou



## VÝCHOZÍ TEXT K ÚLOZE 18

Tato organizace se zakládá konáním ustavující schůze, která:

- určí zapisovaný základní kapitál (musí činit minimálně 50 000,- Kč),
- schválí stanovy,
- zvolí orgány (představenstvo a kontrolní komisi).

Před konáním ustavující schůze je potřeba, aby se nejméně 5 fyzických osob anebo alespoň 2 právnické osoby dohodly na založení. Přípravná fáze založení není zákonem nijak upravena. Obvykle se pro založení vytvoří přípravný výbor (nebo jinak označená skupina aktivistů), který má na starosti organizaci přípravných prací.

(www.businessinfo.cz, upraveno)

**2 body**

**18 Která z následujících organizací je zakládána způsobem popsaným ve výchozím textu?**

- A) družstvo
- B) akciová společnost
- C) komanditní společnost
- D) veřejná obchodní společnost

**2 body**

**19 Které z následujících tvrzení o mzdách není pravdivé?**

- A) Úkolová mzda je mzdová forma, při níž je výdělek závislý na počtu jednotek vykonané práce.
- B) Časová mzda je mzdová forma, při níž je výdělek pracovníka závislý na množství odpracovaného času.
- C) Podílová mzda je mzdová forma závislá na poměru dlouhých a krátkých směn v provozních obchodu a služeb.
- D) Reálná mzda je mzdová forma používaná k určení skutečné hodnoty mzdy, tedy množství životních potřeb, které lze za tuto mzdu pořídit.

**max. 3 body**

**20 Rozhodněte o každé z následujících položek, zda je příjmem státního rozpočtu (ANO), či nikoli (NE):**

	<b>A</b>	<b>N</b>
20.1 sociální pojištění	<input type="checkbox"/>	<input type="checkbox"/>
20.2 daň z nemovitosti	<input type="checkbox"/>	<input type="checkbox"/>
20.3 zdravotní pojištění	<input type="checkbox"/>	<input type="checkbox"/>
20.4 daň z příjmů fyzických osob	<input type="checkbox"/>	<input type="checkbox"/>

max. 2 body

**21 Rozhodněte o každém z následujících tvrzení týkajících se pravicové politiky, zda je pravdivé (ANO), či nikoli (NE):**

- |   | A                        | N                        |
|---|--------------------------|--------------------------|
| 21.1 Upřednostňuje zájmy kolektivu před zájmy jedince.  | <input type="checkbox"/> | <input type="checkbox"/> |
| 21.2 Odmítá výrazné zásahy státu do fungování ekonomiky.  | <input type="checkbox"/> | <input type="checkbox"/> |
| 21.3 Vyznačuje se sympatiemi pro takové principy, jakými jsou autorita, řád, hierarchie, povinnost a tradice. | <input type="checkbox"/> | <input type="checkbox"/> |

max. 2 body

**22 Rozhodněte o každém z následujících výroků, zda popisuje většinový volební systém (ANO), či nikoli (NE):**

- |   | A                        | N                        |
|---|--------------------------|--------------------------|
| 22.1 Systém generuje mnohočlennou vládní koalici, která je pak stabilní.    | <input type="checkbox"/> | <input type="checkbox"/> |
| 22.2 Systém generuje silnější vazbu mezi zvoleným politikem a voličem.      | <input type="checkbox"/> | <input type="checkbox"/> |
| 22.3 Po volbách vzniká zákonodárný orgán složený z mnoha politických stran. | <input type="checkbox"/> | <input type="checkbox"/> |

max. 2 body

**23 Rozhodněte o každé z následujících situací, zda je v souladu s Listinou základních práv a svobod (ANO), či nikoli (NE):**

- |  | A                        | N                        |
|--|--------------------------|--------------------------|
| 23.1 Podezřelému z vraždy byl přidělen advokát ex officio.                                 | <input type="checkbox"/> | <input type="checkbox"/> |
| 23.2 Ve vybraných státních profesích bylo zakázáno náboženské vyznání.                     | <input type="checkbox"/> | <input type="checkbox"/> |
| 23.3 Stát vyvlastnil pozemky majitelům kvůli veřejnému zájmu výstavby dálnice bez náhrady. | <input type="checkbox"/> | <input type="checkbox"/> |

max. 3 body

**24 Rozhodněte o každém z následujících hesel, zda odpovídá ideologii liberalismu (ANO), či nikoli (NE):**

- |   | A                        | N                        |
|---|--------------------------|--------------------------|
| 24.1 Žádáme konec státním zásahům do hospodářství!                    | <input type="checkbox"/> | <input type="checkbox"/> |
| 24.2 Preferujeme pouze kulturní a národní dědictví našich předků!     | <input type="checkbox"/> | <input type="checkbox"/> |
| 24.3 Chceme svobodu a zodpovědnost – pro každého bez rozdílu!         | <input type="checkbox"/> | <input type="checkbox"/> |
| 24.4 Musíme vždy upřednostnit zájmy většiny před těmi individuálními! | <input type="checkbox"/> | <input type="checkbox"/> |

2 body

**25 Který další státní orgán vedle vlády je pověřen nejvyšší výkonnou státní mocí v ČR?**

- A) Senát
- B) krajský úřad
- C) prezident republiky
- D) Poslanecká sněmovna

## VÝCHOZÍ TEXT K ÚLOZE 26

Po jmenování do funkce stojí v čele státního orgánu, který zajišťuje správu země z centrální úrovně v určité působnosti a je pověřen výkonnou státní mocí.

(CERMAT)

2 body

26 Která z následujících funkcí je popsána ve výchozím textu?

- A) ministr
- B) hejtman
- C) primátor
- D) poslanec

## VÝCHOZÍ OBRÁZKY K ÚLOZE 27




1.

(www.google.cz)



2.



3.

2 body

27 Které z následujících symbolů patří mezi státní symboly České republiky definované Ústavou ČR?

- A) symboly č. 1 a 2
- B) symboly č. 1 a 3
- C) symboly č. 2 a 3
- D) všechny tři symboly

2 body

28 Která z následujících možností vystihuje činnost odborových organizací v demokratických státech?

- A) Hájí zájmy svých členů proti zaměstnavateli.
- B) Hájí zájmy všech pracujících proti nepracujícím.
- C) Hájí zájmy důchodců, rodin s dětmi a svobodných matek.
- D) Hájí zájmy sociálně slabých a handicapovaných jedinců proti státu.

### VÝCHOZÍ TEXT K ÚLOZE 29

\*\*\*\*\* byla uložena pokuta ve výši 80 000 Kč zadavateli Středočeská turistická a informační služba, a.s. kvůli porušení zákona o veřejných zakázkách. Rozhodnutí není dosud pravomocné a může být proti němu podán rozklad.

(www.compet.cz, upraveno)

2 body

29 Která z následujících možností patří na vynechané místo (\*\*\*\*\*)  
ve výchozím textu?

- A) Ministerstvem financí ČR
- B) Úřadem průmyslového vlastnictví
- C) Ministerstvem průmyslu a obchodu ČR
- D) Úřadem pro ochranu hospodářské soutěže

### VÝCHOZÍ TEXT K ÚLOZE 30

[...] je sultanát. Titul sultána je dědičný. Současný sultán zastává i post předsedy vlády a má moc k jejímu jmenování. Sultanát disponuje dvoukomorovým sborem rádců, který je známý jako Rada [...]. Rada [...] se dělí na Státní radu (horní komora) a Poradní shromáždění (dolní komora). Rada nemá žádnou zákonodárnou moc, ale může zpochybňovat rozhodnutí vládních ministrů a doporučit změny nových zákonů týkající se hospodářské a sociální politiky.

(www.wikipedia.cz, upraveno)

2 body

30 Které z následujících státních zřízení je popsáno ve výchozím textu?

- A) absolutní monarchie
- B) parlamentní republika
- C) prezidentská republika
- D) parlamentní monarchie

### VÝCHOZÍ TEXT K ÚLOZE 31

Na jednání zastupitelstva byla projednávána otázka přidělování obecních bytů formou losu, nikoli pořadníkem, jak bylo doposud obvyklé. Zastupitelé obce se shodli na tom, že o zavedení losování jako způsobu přidělování obecních bytů rozhodnou občané obce ve všeobecném hlasování.

(CERMAT)

2 body

31 Napište název hlasování popsaného ve výchozím textu:

## VÝCHOZÍ TEXT K ÚLOZE 32

### INFORMAČNÍ TABULE

#### Číslo dveří

<b>127–130</b>	<b>Oddělení matriky</b>
127	matrika úmrtí
128	matrika narození
129	matrika sňatků
130	státní občanství
130	změny jména a příjmení
<b>131</b>	<b>Oddělení správní</b>
131	potvrzení o žití
131	seznamy voličů

(Vzhledem k povaze úlohy není zdroj výchozího textu uveden.)

2 body

32 Napište název instituce, v níž se nejspíše nachází podobná informační tabule:

2 body

33 Seřadte jednotlivé právní předpisy (A–E) od nejvyšší právní síly po nejnižší (33.1–33.5):

A) zákon

B) ústavní zákon

C) nařízení vlády

D) vyhláška ministerstva

E) vyhláška kraje

33.1 \_\_\_\_\_  
33.2 \_\_\_\_\_  
33.3 \_\_\_\_\_  
33.4 \_\_\_\_\_  
33.5 \_\_\_\_\_

### VÝCHOZÍ TEXT K ÚLOZE 34

Úředník pražské radnice je stíhán pro trestný čin porušování závazných pravidel hospodářského styku, za který mu hrozí až dvouleté vězení, a to v souvislosti s projektem Město žije divadlem. \*\*\*\*\* si vyžádal spisový materiál, po jeho prostudování rozhodne, zda bude vypracována obžaloba.

(www.domaci.ihned.cz, upraveno)

2 body

**34** Která z následujících právních profesí patří na vynechané místo (\*\*\*\*\*) ve výchozím textu?

- A) soudce
- B) advokát
- C) vyšetřovatel
- D) státní zástupce

### VÝCHOZÍ TEXT K ÚLOZE 35

Pan Procházka dovezl svůj porouchaný vůz do servisu, kde jej opravili. S majitelem servisu neuzavřel pan Procházka předem žádnou smlouvu ohledně odhadovaných nákladů za opravu. Pan Procházka po opravě vozu odmítl částku zaplatit s tím, že se mu zdá příliš vysoká.

(CERMAT)

2 body

**35** Kterým z následujících způsobů může majitel autoservisu celou záležitost řešit, aby postupoval v souladu se zákonem?

- A) Vymáhat částku za opravu soudní cestou.
- B) Prodat části automobilu pana Procházky v ceně opravy vozu.
- C) Uhradit cenu za opravu prodejem automobilu pana Procházky.
- D) Udělat cokoli, ale pan Procházka částku za provedené opravy nemusí zaplatit.

2 body

**36** Kterou z následujících skutečností nemusí pracovní smlouva obsahovat?

- A) místo výkonu práce
- B) den nástupu do práce
- C) druh vykonávané práce
- D) mzdové zařazení zaměstnance

### VÝCHOZÍ TEXT K ÚLOZE 37

\*\*\*\*\* zajišťuje zákonnost a jednotu rozhodování krajských soudů a správních orgánů tím, že rozhoduje o kasačních stížnostech, je vrcholným orgánem v rozhodování ve věcech volebních, rozhoduje kompetenční spory při výkonu veřejné správy.

(Vzhledem k povaze úlohy není zdroj výchozího textu uveden.)

2 body

37 Která z následujících institucí patří na vynechané místo (\*\*\*\*\*)  
ve výchozím textu?

- A) Vrchní soud ČR
- B) Ústavní soud ČR
- C) Nejvyšší správní soud ČR
- D) Ministerstvo spravedlnosti ČR

### VÝCHOZÍ TEXT K ÚLOZE 38

Pokladní způsobilá majiteli obchodu škodu značného rozsahu.

(CERMAT)

2 body

38 Která z následujících právních skutečností je popsána ve výchozím textu?

- A) právní událost
- B) právní jednání
- C) protiprávní událost
- D) protiprávní jednání

max. 2 body

39 Přiřadte k jednotlivým charakteristikám (39.1–39.3) odpovídající formu náhradní výchovné či rodinné péče (A–E):

39.1 Manželé Kozákoví přijali Anežku z dětského domova do rodiny jako vlastní dítě a mají k ní stejná práva a povinnosti, jako kdyby byli její biologičtí rodiče. \_\_\_\_\_

39.2 Jirka a Zdeňka nemohou být z nejrůznějších důvodů vychováni ve vlastní rodině. Žijí proto v dětském domově, kde budou vychováni až do své dospělosti. \_\_\_\_\_

39.3 Manželé Štěpánovi se starají o pět dětí, žádné z nich však není jejich. Nemají k nim stejná práva a povinnosti jako biologičtí rodiče, kteří často rozhodují o nejdůležitějších věcech. Za péči o děti dostávají manželé Štěpánovi finanční příspěvek od státu. \_\_\_\_\_

- A) osvojení
- B) poručenství
- C) ústavní péče
- D) opatrovnictví
- E) pěstounská péče

max. 3 body

**40 Rozhodněte o každém z následujících finančních plnění ze strany zaměstnavatele, zda na ně má zaměstnanec právní nárok (ANO), či nikoli (NE):**

	<b>A</b>	<b>N</b>
40.1 mzda	<input type="checkbox"/>	<input type="checkbox"/>
40.2 odměny	<input type="checkbox"/>	<input type="checkbox"/>
40.3 osobní příplatek	<input type="checkbox"/>	<input type="checkbox"/>
40.4 cestovní náhrady	<input type="checkbox"/>	<input type="checkbox"/>

---

max. 2 body

**41 Rozhodněte o každé z následujících možností, zda je příkladem humanitární pomoci (ANO), či nikoli (NE):**

	<b>A</b>	<b>N</b>
41.1 Česká republika poskytla základní zdravotnický materiál místům v jihovýchodní Asii postiženým vlnou tsunami.	<input type="checkbox"/>	<input type="checkbox"/>
41.2 Český ministr zahraničních věcí schválil poskytnutí pomoci ve výši pět milionů korun pro Haiti postižené zemětřesením.	<input type="checkbox"/>	<input type="checkbox"/>
41.3 V rámci projektu „Voda pro Afriku“ dlouhodobě řeší Česká republika problém nedostatku vody a jejích nekvalitních zdrojů, které jsou příčinou mnoha úmrtí v Etiopii.	<input type="checkbox"/>	<input type="checkbox"/>

---


2 body

**42 Který z následujících globálních problémů se netýká Evropy?**

- A) zvyšování emisí skleníkových plynů
- B) stoupající spotřeba surovin a energie
- C) zvyšování výskytu civilizačních chorob
- D) stoupající nedostatek pitné vody pro obyvatele



### VÝCHOZÍ OBRÁZEK K ÚLOZE 43



(www.google.cz)

2 body

43 Které z následujících mezinárodních organizací patří logo zobrazené na výchozím obrázku?

- A) Světové bance
- B) Severoatlantické alianci
- C) Organizaci spojených národů
- D) Mezinárodnímu měnovému fondu

2 body

44 Která z následujících institucí má konečné slovo při přijímání rozpočtu Evropské unie?

- A) Evropská komise
- B) Evropský parlament
- C) Rada Evropské unie
- D) Evropská centrální banka

### VÝCHOZÍ TEXT K ÚLOZE 45

Manželé Součkovi investovali peníze do akcií francouzské automobilky, ty poté prodali a zakoupili si vilu v Mariánských Lázních.

(CERMAT)

2 body

45 Která z následujících základních svobod vnitřního trhu Evropské unie je popsána ve výchozím textu?

- A) volný pohyb osob
- B) volný pohyb zboží
- C) volný pohyb služeb
- D) volný pohyb kapitálu

ZKONTROLUJTE, ZDA JSTE DO ZÁZNAMOVÉHO ARCHU UVEDL/A VŠECHNY ODPOVĚDI.