

OBČANSKÝ A SPOLEČENSKOVĚDNÍ ZÁKLAD

základní úroveň obtížnosti

OZMZD12C0T01

DIDAKTICKÝ TEST

Maximální bodové hodnocení: 92 bodů
Hranice úspěšnosti: 33 %

1 Základní informace k zadání zkoušky

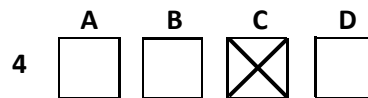
- Didaktický test obsahuje 45 úloh.
- Časový limit pro řešení didaktického testu je uveden na záznamovém archu.
- Povolené pomůcky: pouze psací potřeby.
- U každé úlohy je uveden maximální počet bodů.
- U všech úloh/podúloh je právě jedna odpověď správná.
- Za nesprávnou nebo neuvedenou odpověď se body neodečítají.
- Odpovědi pište do záznamového archu.
- Poznámky si můžete dělat do testového sešitu, nebudou však předmětem hodnocení.
- Nejednoznačný nebo nečitelný zápis odpovědi bude považován za chybné řešení.

2 Pravidla správného zápisu odpovědí

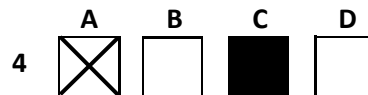
- Odpovědi zaznamenávejte modrou nebo černou propisovací tužkou, která píše dostatečně silně a nepřerušovaně.
- Hodnoceny budou pouze odpovědi uvedené v záznamovém archu.

2.1 Pokyny k uzavřeným úlohám

- Odpověď, kterou považujete za správnou, zřetelně zakřížkujte v příslušném bílém poli záznamového archu, a to přesně z rohu do rohu dle obrázku.



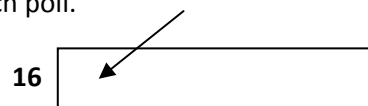
- Pokud budete chtít následně zvolit jinou odpověď, zabarvíte pečlivě původně zakřížkované pole a zvolenou odpověď vyznačíte křížkem do nového pole.



- Jakýkoli jiný způsob záznamu odpovědí a jejich oprav bude považován za nesprávnou odpověď.
- Pokud zakřížkujete více než jedno pole, bude vaše odpověď považována za nesprávnou.

2.2 Pokyny k otevřeným úlohám

- Odpovědi pište čitelně do vyznačených bílých polí.



- Povoleno je psací i tiskací písmo a číslice.
- Při psaní odpovědí rozlišujte velká a malá písmena.
- Pokud budete chtít následně zvolit jinou odpověď, pak původní odpověď přeškrtněte a novou odpověď zapište do stejného pole. Vaše odpověď nesmí přesáhnout hranice vyznačeného pole.

Testový sešit neotvírejte, počkejte na pokyn!

VÝCHOZÍ TEXT K ÚLOZE 1

Pan Jarda je společenským typem člověka. Je komunikativní a vnímavý, ale jeho city nejdou příliš do hloubky. Je aktivní a má spoustu zájmů. Svě životní zážitky také dokáže barvitě a hlasitě vyprávět. Ostatní přitahuje vlastní energií a nadšením, ale také tím, že je smířlivý a schopný podřídit se v zájmu všech.

(CERMAT)

2 body

1 Který z následujících typů temperamentu odpovídá osobnosti pana Jardy?

- A) choleric
- B) flegmatik
- C) sangvinik
- D) melancholik

VÝCHOZÍ TEXT K ÚLOZE 2


Bublanski patřil k jižní, sefardské větvi, a pokud nebyly k mání košer pokrmy, objednával si vegetariánské jídlo. Nebyl však ortodoxní do té míry, aby o šábesu nepracoval.

(S. Larsson, *Dívka, která si hrála s ohněm*)

2 body

2 Který z následujících symbolů na obrázku nepatří k náboženství, které vyznává muž popsáný ve výchozím textu?

A)



B)



C)



D)



2 body

3 Co znamená systém rooming in v oblasti porodnictví?

- A) přítomnost otce u porodu
- B) přítomnost doly, speciálně vyškolené doprovodné osoby, u porodu
- C) umístění novorozence s matkou na jednom pokoji v bezprostřední vzájemné blízkosti
- D) první přiložení dítěte k prsu během první půl hodiny po porodu, nejdéle však do dvou hodin

VÝCHOZÍ TEXT K ÚLOZE 4

„Víte, můj děda – rakousko-uherský oficír – mě nutil jíst talíř polívky. Postavil přede mě budík a zařval: „Žer, máš na to pět minut! A za každou minutu navíc po mně hodinu nic nechtěj!“, a zamkl mi kolo.“

(Magazín Práva, 24. 10. 2009, rozhovor s Jiřím Schmitzerem)

2 body

4 Který z následujících typů výchovy je popsán ve výchozím textu?

- A) liberální
- B) chaotický
- C) autoritativní
- D) ambivalentní

VÝCHOZÍ TEXT K ÚLOZE 5

Přejídání se střídá s fázemi totálního neudržení potravy. Jídlo prožívá takový člověk jako požitek a po velkém hladu se mu oddává nemírou. Po náporu žravosti následuje stud nad nedostatečným sebeovládáním, spojený s pocity viny a výčitek.

(M. Fürst, Psychologie, upraveno)

2 body

5 Který z následujících problémů souvisejících s příjmem potravy je popsán ve výchozím textu?

- A) bulimie
- B) obezita
- C) anorexie
- D) jojo efekt

VÝCHOZÍ TEXT K ÚLOZE 6

Antonius byl zběsilý, rozvášněný, ale zřejmě i strhující. Některé jeho články v novinách byly tak emotivní, že jeho lékař po jejich přečtení spěchal pustit svému pacientovi žilou.

(Magazín Práva, 31. 10. 2009, upraveno)

2 body

6 Který z následujících aspektů osobnosti je popsán ve výchozím textu?

- A) tvořivost
- B) motivace
- C) charakter
- D) temperament

VÝCHOZÍ TEXT K ÚLOZE 7

Témata:

- Milétská škola
- Racionalismus
- Empirismus
- Teorie pravdy
- Vztah mysli a těla

(CERMAT)

2 body

7 Který z následujících vědních oborů zahrnuje témata uvedená ve výchozím textu?

- A) filozofie
- B) sociologie
- C) pedagogika
- D) psychologie

VÝCHOZÍ TEXT K ÚLOZE 8

Anežka se narodila před 14 dny. Měří 52 cm a váží 4,2 kg. Daří se jí vnímat předměty a osoby, které se vyskytují od jejích očí ve vzdálenosti asi 25–30 cm. Většinou leží na zádičkách, sama se neumí otočit na bok ani na břicho.

(CERMAT)

2 body

8 Napište název etapy lidského vývoje popsané ve výchozím textu:

VÝCHOZÍ TEXT K ÚLOZE 9

Ve třídě proběhla bouřlivá diskuse čtyř žáků dramatického kroužku, kteří dostali za úkol připravit projev na začátek oslav 50. výročí založení školy. Honza si představoval, že řečníkem bude on. Jana by ale raději zvolila Karla, který má podle ní lepší slovní projev. Honza se velice rozzlobil a řekl jim, ať si to tedy vymýšlejí sami. Markéta osočila Honzu, že se s ním není možné domluvit. Karel by se rád úkolu zhostil, ale nechtěl se s Honzou hádat. Řekl tedy, ať je řečníkem Honza. To se nelíbilo Janě ani Markétě, a navrhly, aby si celý projev rozdělili s Karlem na polovinu. Honza ale ustoupit nechtěl.

(CERMAT)

2 body

- 9 Napište jméno žáka, který jako způsob řešení konfliktní situace zvolil únik:

2 body

- 10 Rozhodněte o každém z následujících výroků, zda představuje jednání asertivní (ANO), či nikoli (NE):

	A	N
10.1 Dejte mi už všichni pokoj, nic vám do toho není.	<input type="checkbox"/>	<input type="checkbox"/>
10.2 Chápu, že je to pro vás složité, ale já tu informaci opravdu potřebuji.	<input type="checkbox"/>	<input type="checkbox"/>
10.3 Přece mi tady nechcete tvrdit, že za to může někdo jiný než vy sám.	<input type="checkbox"/>	<input type="checkbox"/>

2 body

- 11 Rozhodněte o každém z následujících tvrzení týkajících se socializace, zda je pravdivé (ANO), či nikoli (NE):

	A	N
11.1 Socializace je celoživotním nikdy nekončícím procesem.	<input type="checkbox"/>	<input type="checkbox"/>
11.2 Socializace je záměrný proces zaměřený pouze na výchovu.	<input type="checkbox"/>	<input type="checkbox"/>
11.3 Sociálně narušení jedinci prošli v dětství procesem socializace.	<input type="checkbox"/>	<input type="checkbox"/>

max. 3 body

- 12 Přiřadte k jednotlivým přáním (12.1–12.4) odpovídající potřebu (A–E):

- 12.1 Rád bych šel spát. _____
12.2 Ráda bych si našla přátele. _____
12.3 Rád bych si neudělal ostudu. _____
12.4 Ráda bych měla stabilní příjem. _____

- A) potřeba fyziologická
B) potřeba uznání, úcty
C) potřeba seberealizace
D) potřeba bezpečí, jistoty
E) potřeba lásky, sounáležitosti

2 body

13 Přiřaďte k jednotlivým podnikatelským činnostem (13.1–13.3) odpovídající druh živnosti (A–D):

13.1 Honzu vždy bavilo řídit automobily a motocykly. Rozhodl se samostatně podnikat a provozovat taxislužbu. _____

13.2 Petra se rozhodla pracovat jako OSVČ. Společně s kamarádkou si otevřela maloobchodní prodejnu s drogistickým zbožím a parfumerií. _____

13.3 Tomáš se vyučil opravářem zemědělských a lesnických strojů. Hned po ukončení školy začal podnikat. Otevřel si opravnu zahradnické a zemědělské techniky. _____

- A) volná
- B) vázaná
- C) řemeslná
- D) koncesovaná

max. 2 body

14 Přiřaďte k nabízeným produktům banky (14.1–14.3) odpovídající název (A–E):

14.1 Sjednává se k běžnému účtu, klientovi je dovoleno čerpat z účtu peníze i v případě, že na něm nemá dostatečnou hotovost. _____

14.2 Nejčastěji se využívá k nákupu nemovitosti za účelem bydlení či pronájmu. Běžně bývá splácen měsíčními splátkami. _____

14.3 Jednotlivé platby je možné poukázat buď v měsíčním intervalu, rovněž nepravidelně, či pouze jednou za rok. Klient je vázán minimální délkou 6 let, aby získal státní podporu z naspořené částky. _____

- A) spořicí účet
- B) hypoteční úvěr
- C) stavební spoření
- D) kontokorentní úvěr
- E) penzijní připojištění

VÝCHOZÍ TABULKA K ÚLOZE 15

měsíc	leden 2011		Základní mzda	podílová	0	Odměny	16660		Základ daně	63800
jméno				měsíční	30940	Náhrady			Slevy na dani	1970
rodné číslo				úkolová	0	DPN dle ZP	dny	Kč	Sleva na děti	0
ev. číslo	112		Příplatky		0.0		0.0	Daňový bonus	0	
fond pracovní doby	21.0	dny	přesčas	dny	Kč	DPN nadlim.	0.0	0.0	Záloha na daň	7600
odpracováno	21.0	dny		0.0	0.0	Dovolená	0.0	0.0	Hrubá mzda	47600
neplacené volno	0.00		So, Ne	0.0	0.0	Dov. proplacená	0.0	0.0	Čistá mzda	34764
nemoc		0.00	Svátek	0.0	0.0	Svátky	0.0	0.0	Srážka	0
dovolená	čerpaná	0.00	Noc	0.0	0.0	Hrubý příjem		47600	Penzijní přípojištění	0
	proplacená	0.00	Riziko	0.0	0.0	Zdravotní pojištění		2142	Dávky nemocenské	0
	zbývá	20.00		0.0	0.0	Sociální pojištění		3094	Ostatní dávky	0
Záloha	0		Dobírka	34764	Z toho na účet		34764	Hotově:	0	15.2.2011

(CERMAT)

2 body

15 Kterému z následujících zaměstnanců patří výše uvedený výplatní lístek?

- A) Lenka Fárová je vyučená dámskou krejčovou. Pracuje ve společnosti na výrobu dámských společenských šatů. Měsíčně často překračuje výkonové normy.
- B) Veronika Černá pracuje jako knihovnice v místní knihovně. Je odměňována měsíční mzdou ve stálé výši. Čerpala neplacené volno, a tak se jí příjem výrazně snížil.
- C) Jana Novotná je zaměstnaná ve společnosti jako vedoucí účtárny. Vyhovuje jí pružná pracovní doba. Měsíční fond pracovní doby si tak může rozložit nerovnoměrně.
- D) Růžena Veselá je vedoucí vzorkové prodejny. Prodejna dosahuje velmi dobrých obchodních výsledků, a tak se pohyblivá složka mzdy, závislá na podílu z měsíčních tržeb, pohybuje vždy velmi vysoko.

VÝCHOZÍ TEXT K ÚLOZE 16

Tuto daň platí všichni při nákupu většiny zboží a služeb, proto se jí také někdy říká *Univerzální daň*. Princip této daně je v tom, že dodavatel, pokud je registrován jako plátce, musí odvést z obchodu část platby, pokud je tento obchod předmětem daně. Naopak odběratel si za jistých podmínek může zažádat o vrácení daně, kterou při obchodu dodavateli-plátci zaplatil.

(CERMAT)

2 body

16 Kterou z následujících daní popisuje výchozí text?

- A) daň spotřební
- B) daň z přidané hodnoty
- C) daň z příjmu fyzických osob
- D) daň z příjmu právnických osob

VÝCHOZÍ TEXT K ÚLOZE 17

§ 108

(1) Výše základního kapitálu společnosti musí činit alespoň 200 000 Kč.

§ 109

(1) Výše vkladu společníka musí činit alespoň 20 000 Kč.

(2) Na základním kapitálu společnosti se může každý společník účastnit pouze jedním vkladem. Výše vkladu může být pro jednotlivé společníky stanovena rozdílně, musí však být dělitelná na celé tisíce. Celková výše vkladů musí souhlasit s výší základního kapitálu společnosti.

(Zákon č. 513/1991 Sb., obchodní zákoník)

2 body

17 Která z následujících obchodních společností má předepsaný kapitál popsany ve výchozím textu?

- A) akciová společnost
- B) komanditní společnost
- C) veřejná obchodní společnost
- D) společnost s ručením omezeným

VÝCHOZÍ TEXT K ÚLOZE 18

Jedná se o statky, které se vzájemně doplňují. Růst či pokles ceny jednoho z nich, vyvolá růst či pokles poptávky nejen po tomto statku, ale i po statku doplňkovém.

(Vzhledem k povaze úlohy není zdroj výchozího textu uveden.)

2 body

18 Která z následujících dvojic produktů je ve vztahu, který popisuje výchozí text?

- A) káva a čaj
- B) lyže a běžky
- C) boty a tkaničky
- D) noviny a časopis

VÝCHOZÍ TEXT A TABULKA K ÚLOHÁM 19–20

Obyčejné kreditní karty, se kterými lze jen utrácet na dluh, už nejsou v módě. V nabídce se začínají objevovat takové, které klientům slibují vydělat.

Karta	Bonus	Bezúročné období ve dnech/úrok za měsíc	Roční poplatek (v Kč)
Karta A	za každých 1 000 korun 10 korun na penzijní připojištění	40/1,59 %	228–1 007
Karta B	1 % z každé bezhotovostní transakce na penzijní připojištění	50/1,98 %	299
Karta C	1 % – 11 % z nákupů na životní, či neživotní pojištění	45/1,95 %	30
Karta D	1 % z každého nákupu 1x ročně na investiční pojištění	45/1,95 %	30

(CERMAT)

2 body

19 U které z následujících karet je poskytováno nejdelší období, ve kterém se klientovi nepočítá žádný úrok?

- A) karta A
- B) karta B
- C) karta C
- D) karta D

max. 3 body

20 Rozhodněte o každém z následujících bonusů, zda ho lze získat k některé z karet ve výchozí tabulce (ANO), či nikoli (NE):

	A	N
20.1 vedení karty bez poplatku	<input type="checkbox"/>	<input type="checkbox"/>
20.2 slevu 1 % z každého nákupu	<input type="checkbox"/>	<input type="checkbox"/>
20.3 příspěvky na životní pojištění	<input type="checkbox"/>	<input type="checkbox"/>
20.4 příspěvek na investiční pojištění	<input type="checkbox"/>	<input type="checkbox"/>

2 body

21 Rozhodněte o každé z následujících institucí, zda je součástí zákonodárné moci ČR (ANO), či nikoli (NE):

	A	N
21.1 Senát	<input type="checkbox"/>	<input type="checkbox"/>
21.2 Policie	<input type="checkbox"/>	<input type="checkbox"/>
21.3 Nejvyšší soud	<input type="checkbox"/>	<input type="checkbox"/>

max. 2 body

22 Přiřadte k jednotlivým osobám (22.1–22.3) odpovídající funkci (A–E):

- 22.1 Jan Krulík byl zvolen na první společné schůzi zastupitelstva po volbách a je v Brně nejvyšším představitelem obecní správy. _____
- 22.2 Karel Lamač byl zvolen na ustavující členské schůzi zemědělského družstva Svět a zároveň je i jeho statutárním zástupcem. _____
- 22.3 Paní Jana Motlová byla jmenována do čela státního orgánu, který zajišťuje správu země z centrální úrovně, a je pověřena výkonou státní mocí. _____

- A) ministr
- B) starosta
- C) hejtman
- D) primátor
- E) předseda

2 body

23 Proč je v českém kalendáři vyhlášen 28. říjen jako státní svátek?

- A) Je oslavován jako svátek práce.
- B) Je připomínkou vzniku České republiky.
- C) Je připomínkou vzniku Československa.
- D) Je oslavován jako „Den boje studentů za svobodu“.

VÝCHOZÍ TEXT K ÚLOZE 24

Média označila ještě v průběhu vyšetřování člověka podezřelého z vykonání trestného činu za chladnokrevného vraha.

(CERMAT)

2 body

24 Které z následujících práv bylo porušeno v situaci popsané ve výchozím textu?

- A) právo na obhajobu
- B) princip presumpce neviny
- C) právo na zákonného soudce
- D) princip nezávislosti a nestrannosti soudce

VÝCHOZÍ TEXT K ÚLOZE 25

Obec Studenec na Vysočině vypsala referendum kvůli Stalinovi na návsi

V referendu budou občané rozhodovat, jestli se z pomníku padlých na návsi odstraní reliéf Josifa Vissarionoviče Stalina. Jeho podobizna sousedí s tvářemi československých prezidentů T. G. Masaryka a Edvarda Beneše. O termínu referenda rozhodli ve středu večer zastupitelé Studence na Třebíčsku.

(www.zpravy.idnes.cz, upraveno)

2 body

25 Kdo se může zúčastnit referenda popsaného ve výchozím textu?

- A) občané Studence
- B) všichni obyvatelé kraje Vysočina
- C) pouze zastupitelé obce Studenec
- D) každý obyvatel ČR, který projeví zájem

2 body

26 Čím se v praxi liší autoritativní režim od totalitárního?

- A) Dává lidem naprostou svobodu v pravidelných volbách.
- B) Buduje ještě větší kult osobnosti a brutálně potlačuje opozici.
- C) Nebrání se angažování lidí v politice a akceptuje jejich kritiku.
- D) Neusiluje o naprostou kontrolu veřejného i soukromého života.

VÝCHOZÍ TEXT K ÚLOZE 27

Forma vlády, která se přímo odvolává na božskou moc a božské právo. V současnosti k ní mají nejbližší islámské země s právem šaría. Prostředníkem a vykladačem božské vůle a práva je obvykle kněžstvo, které může být součástí panovnického dvora, anebo na něm může být do jisté míry nezávislé.

(www.wikipedia.cz)

2 body

27 Která z následujících forem vlády je popsána ve výchozím textu?

- A) republika
- B) teokracie
- C) absolutní monarchie
- D) konstituční monarchie

28 Který z následujících hlasovacích lístků je vyplněn správně?

A)

HLASOVACÍ LÍSTEK					
Volby do zastupitelstva obce ve dnech 10. – 11. února 2010					
Do zastupitelstva obce se volí 5 členů.					
<input checked="" type="checkbox"/>	strana A	<input type="checkbox"/>	strana B	<input type="checkbox"/>	strana C
<input type="checkbox"/>	1. kandidát 1	<input type="checkbox"/>	1. kandidát 1	<input type="checkbox"/>	1. kandidát 1
<input type="checkbox"/>	2. kandidát 2	<input type="checkbox"/>	2. kandidát 2	<input type="checkbox"/>	2. kandidát 2
<input type="checkbox"/>	3. kandidát 3	<input type="checkbox"/>	3. kandidát 3	<input type="checkbox"/>	3. kandidát 3
<input type="checkbox"/>	4. kandidát 4	<input type="checkbox"/>	4. kandidát 4	<input type="checkbox"/>	4. kandidát 4
<input type="checkbox"/>	5. kandidát 5	<input type="checkbox"/>	5. kandidát 5	<input type="checkbox"/>	5. kandidát 5

B)

HLASOVACÍ LÍSTEK					
Volby do zastupitelstva obce ve dnech 10. – 11. února 2010					
Do zastupitelstva obce se volí 5 členů.					
<input checked="" type="checkbox"/>	strana A	<input checked="" type="checkbox"/>	strana B	<input type="checkbox"/>	strana C
<input type="checkbox"/>	1. kandidát 1	<input type="checkbox"/>	1. kandidát 1	<input type="checkbox"/>	1. kandidát 1
<input type="checkbox"/>	2. kandidát 2	<input type="checkbox"/>	2. kandidát 2	<input type="checkbox"/>	2. kandidát 2
<input type="checkbox"/>	3. kandidát 3	<input type="checkbox"/>	3. kandidát 3	<input type="checkbox"/>	3. kandidát 3
<input type="checkbox"/>	4. kandidát 4	<input type="checkbox"/>	4. kandidát 4	<input type="checkbox"/>	4. kandidát 4
<input type="checkbox"/>	5. kandidát 5	<input type="checkbox"/>	5. kandidát 5	<input type="checkbox"/>	5. kandidát 5

C)

HLASOVACÍ LÍSTEK					
Volby do zastupitelstva obce ve dnech 10. – 11. února 2010					
Do zastupitelstva obce se volí 5 členů.					
<input checked="" type="checkbox"/>	strana A	<input checked="" type="checkbox"/>	strana B	<input checked="" type="checkbox"/>	strana C
<input type="checkbox"/>	1. kandidát 1	<input type="checkbox"/>	1. kandidát 1	<input type="checkbox"/>	1. kandidát 1
<input type="checkbox"/>	2. kandidát 2	<input type="checkbox"/>	2. kandidát 2	<input type="checkbox"/>	2. kandidát 2
<input type="checkbox"/>	3. kandidát 3	<input type="checkbox"/>	3. kandidát 3	<input type="checkbox"/>	3. kandidát 3
<input type="checkbox"/>	4. kandidát 4	<input type="checkbox"/>	4. kandidát 4	<input type="checkbox"/>	4. kandidát 4
<input type="checkbox"/>	5. kandidát 5	<input type="checkbox"/>	5. kandidát 5	<input type="checkbox"/>	5. kandidát 5

D)

HLASOVACÍ LÍSTEK					
Volby do zastupitelstva obce ve dnech 10. – 11. února 2010					
Do zastupitelstva obce se volí 5 členů.					
<input checked="" type="checkbox"/>	strana A	<input checked="" type="checkbox"/>	strana B	<input type="checkbox"/>	strana C
<input type="checkbox"/>	1. kandidát 1	<input type="checkbox"/>	1. kandidát 1	<input type="checkbox"/>	1. kandidát 1
<input type="checkbox"/>	2. kandidát 2	<input checked="" type="checkbox"/>	2. kandidát 2	<input type="checkbox"/>	2. kandidát 2
<input type="checkbox"/>	3. kandidát 3	<input type="checkbox"/>	3. kandidát 3	<input type="checkbox"/>	3. kandidát 3
<input type="checkbox"/>	4. kandidát 4	<input checked="" type="checkbox"/>	4. kandidát 4	<input type="checkbox"/>	4. kandidát 4
<input type="checkbox"/>	5. kandidát 5	<input type="checkbox"/>	5. kandidát 5	<input type="checkbox"/>	5. kandidát 5

VÝCHOZÍ OBRÁZEK K ÚLOZE 29



(www.google.cz)

2 body

29 Která z následujících politických stran uveřejnila plakát zobrazený na výchozím obrázku?

- A) levicová
- B) pravicová
- C) strana středu
- D) krajně levicová

VÝCHOZÍ TEXT K ÚLOZE 30

Itálie včera oslavila významné jubileum. I když vláda Silvia Berlusconiho vyhlásila na tento den státní svátek, oslavy neprobíhaly všude. Sjednocení Apeninského poloostrova odmítala oslavovat německá menšina, která žije v Trentino-Horní Adiži a jež se stala součástí Itálie až po první světové válce.

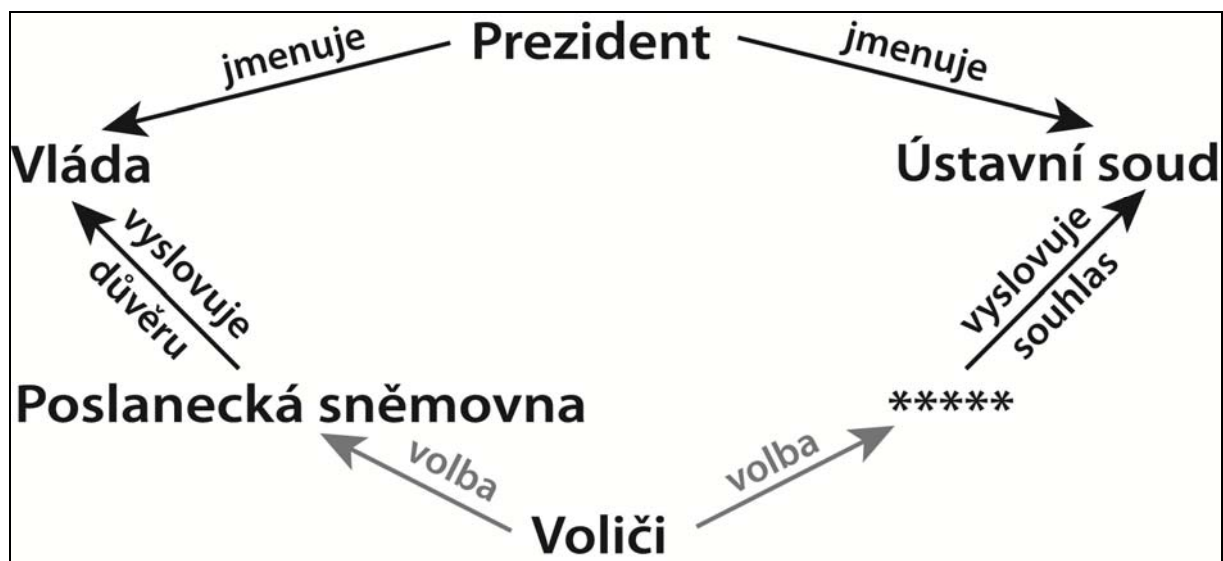
(www.euractiv.cz, upraveno)

2 body

30 Která z následujících ideologií vedla část obyvatel k odmítnutí oslav popsaných ve výchozím textu?

- A) rasismus
- B) anarchismus
- C) nacionalismus
- D) antisemitismus

VÝCHOZÍ SCHÉMA K ÚLOZE 31




(www.lep.wz.cz, upraveno)

2 body

- 31 Napište název ústavního orgánu, který patří na vynechané místo (*****) ve výchozím schématu:

VÝCHOZÍ OBRÁZEK K ÚLOZE 32



(www.google.cz)

2 body

- 32 Napište území, které na výchozím obrázku reprezentuje stříbrno-červeně šachovaná orlice zobrazená v horním pravém poli:

2 body

33 Seřadte jednotlivé fáze legislativního procesu (A–E) tak, jak jdou za sebou (33.1–33.5):

- A) Vláda předkládá návrh zákona.
- B) Prezident využívá suspenzivní veto.
- C) Zákon zveřejněn ve Sbírce zákonů.
- D) Senát vrací návrh zákona s pozměňovacími návrhy.
- E) Zákon schválen Poslaneckou sněmovnou v druhém čtení.

- 33.1 _____
- 33.2 _____
- 33.3 _____
- 33.4 _____
- 33.5 _____

VÝCHOZÍ TEXT K ÚLOHÁM 34–35

Kdy se platí darovací daň?

Dostat dar se může slušně prodražit. Stačí, abyste nebyli s dárcem příbuzní a hodnota darovaných movitých věcí či finančního majetku byla vyšší než dvacet tisíc korun. Pak z daru do milionu korun zaplatíte daň sedm procent. S rostoucí hodnotou daru roste i daňová sazba. Od daně darovací jsou osvobozeny osoby, které jsou s dárcem v příbuzenském vztahu. Jedná se o přímé příbuzné (I. skupina) – manžele, děti, vnoučata, rodiče, prarodiče – a o příbuzné v řadě pobočné, tedy sourozence, tety, strýce, neteře, synovce, a další osoby, např. zetě, snachy, manžele rodičů a osoby, které s dárcem žily nejméně rok ve společné domácnosti (II. skupina). Předmětem daně jsou nemovitosti, movitý majetek a jiný majetkový prospěch. Daň platí obdarovaný, dárce je ručitelem. To znamená, že pokud obdarovaný daň nezaplatí, může ji stát vymáhat po dárci.

(www.penize.cz, upraveno)

2 body

34 U kterého z následujících darů musíte zaplatit darovací daň?

- A) Darujete svým rodičům zájezd na Mallorku.
- B) Darem získáte od strýce z Austrálie nový byt v Praze.
- C) Dostanete od rodičů osobní automobil v hodnotě 150 000,- Kč.
- D) Dostanete od kamaráda počítač s příslušenstvím v hodnotě 25 000,- Kč.

2 body

35 Kdo zaplatí darovací daň v případě, že vaši rodiče darují vaší babičce novou televizi za 21 000,- Kč?

- A) stát
- B) nikdo
- C) rodiče
- D) babička

VÝCHOZÍ TEXT K ÚLOZE 36

Eva Tomšová se znovu vdala. První manželství bylo rozvedeno. Z prvního manželství má dceru Janu. S druhým manželem Josefem má dva syny, Ivoše a Milana, a dceru Kláru. Její druhý manžel nikdy nedělal rozdíly mezi dětmi, Janu ale neadoptoval. Nyní manžel Josef zemřel, nezanechal závěť.

(CERMAT)

2 body

36 Které z následujících osob jsou neopomenutelní dědicové?

- A) děti Ivoš, Milan, Klára
- B) manželka Eva a dcera Jana
- C) děti Ivoš, Milan, Klára a Jana
- D) manželka Eva a děti Ivoš, Milan, Klára a Jana

VÝCHOZÍ TEXT K ÚLOZE 37

***** obžaloval řidiče, který se srazil s dalším

***** Jan Dub ve čtvrtek obžaloval z trestného činu ublížení na zdraví řidiče Ladislava Kolmana, jehož Daewoo Avia D 75 se loni v létě srazila s fiatem Freemont. Řidič fiatu po nehodě zemřel. Spisový materiál týkající se nehody byl Janu Dubovi předán 25. ledna 2011. „Všechny podklady byly dostatečné, nepožadoval jsem tedy jejich doplnění,“ uvedl Jan Dub.

(www.radio.cz, upraveno)

2 body

37 Která z následujících profesí patří na vynechaná místa (*****)
ve výchozím textu?

- A) Soudce
- B) Policista
- C) Vyšetřovatel
- D) Státní zástupce

2 body

38 Které z následujících ustanovení obsahuje zákoník práce?

- A) Do Poslanecké sněmovny může být zvolen každý občan České republiky, který má právo volit a dosáhl věku 21 let.
- B) Výměra dovolené činí nejméně 4 týdny v kalendářním roce. Dovolená pedagogických pracovníků činí 8 týdnů v kalendářním roce.
- C) Pojištěnec má nárok na starobní důchod, jestliže získal dobu pojištění nejméně 25 let a dosáhl aspoň věku potřebného pro vznik nároku na starobní důchod.
- D) Za nezaopatřené dítě se považuje dítě do skončení povinné školní docházky, a poté, nejdéle však do 26. roku věku, jestliže se soustavně připravuje na budoucí povolání.

max. 2 body

39 Přiřaďte k jednotlivým právním vztahům (39.1–39.3) odpovídající druh smlouvy (A–E):

39.1 Od firmy HALAMO a spol., jste si nechali ušít péřové přikrývky a polštáře. _____

39.2 Bytovému družstvu První Letná platíte měsíčně do fondu oprav 600,- Kč a za byt 7 000,- Kč. _____

39.3 Na nádraží jste si za úplatu ponechali zavazadla a jízdní kolo v hlídaném prostoru, vše jste si vyzvedli do dvou hodin. _____

- A) o dílo
- B) kupní
- C) nájemní
- D) o úschově
- E) o ubytování

VÝCHOZÍ TEXT K ÚLOZE 40

***** je jeden z právních režimů náhradní rodinné péče. Právní vztah končí dosažením zletilosti dítěte. Biologičtí rodiče neztrácejí rodičovskou povinnost a vědí, kde dítě vyrůstá. Za poskytování ***** náleží odměna.

(Zákon č. 94/1963 Sb., o rodině)

2 body

40 Napište název formy náhradní rodinné péče, která patří na vynechaná místa (***) ve výchozím textu:**

2 body

41 Rozhodněte o každém z následujících tvrzení, zda je pravdivé (ANO), či nikoli (NE):

41.1 V éře globalizace je složitější cestování, neboť si jednotlivé státy stále více hlídají své hranice.

A	N
<input type="checkbox"/>	<input type="checkbox"/>

41.2 Éra globalizace zasáhla i český jazyk, který nově přejímá cizí slova, počeštuje některé výrazy a rychle se přizpůsobuje nové době.

<input type="checkbox"/>	<input type="checkbox"/>
--------------------------	--------------------------

41.3 Éra globalizace s sebou přinesla zdražení přenosu počítačových dat, zdražila mezinárodní telefonní komunikaci a zkomplikovala mezikontinentální dopravu.

<input type="checkbox"/>	<input type="checkbox"/>
--------------------------	--------------------------

2 body

42 Ve kterém z následujících roků předsedala Česká republika Evropské unii?

- A) 2007
- B) 2008
- C) 2009
- D) nikdy nepředsedala

VÝCHOZÍ TEXT K ÚLOZE 43

MZV kritizuje odklad rozšíření schengenského prostoru na rok 2009

Praha – Odklad rozšíření schengenského prostoru na začátek roku 2009 Českou republiku „silně znepokojuje“. Uvedlo to dnes ministerstvo zahraničí v tiskovém prohlášení. Znamená to podle něj „prodloužení nynějšího nežádoucího stavu, kdy čeští občané nemohou plně užívat jedné ze základních svobod Evropské unie“.

(ČTK, 12. 9. 2006, upraveno)

2 body

43 Která z následujících základních svobod EU je uvedena ve výchozím textu?

- A) volný pohyb osob
- B) volný pohyb zboží
- C) volný pohyb služeb
- D) volný pohyb kapitálu

VÝCHOZÍ TEXT K ÚLOZE 44

Lidstvo může zajišťovat své současné potřeby, aniž tím omezí možnost příštích generací uspokojovat jejich budoucí potřeby. Mezi hlavní cíle této strategie patří zachování životního prostředí našim dětem v co nejméně pozměněné podobě.

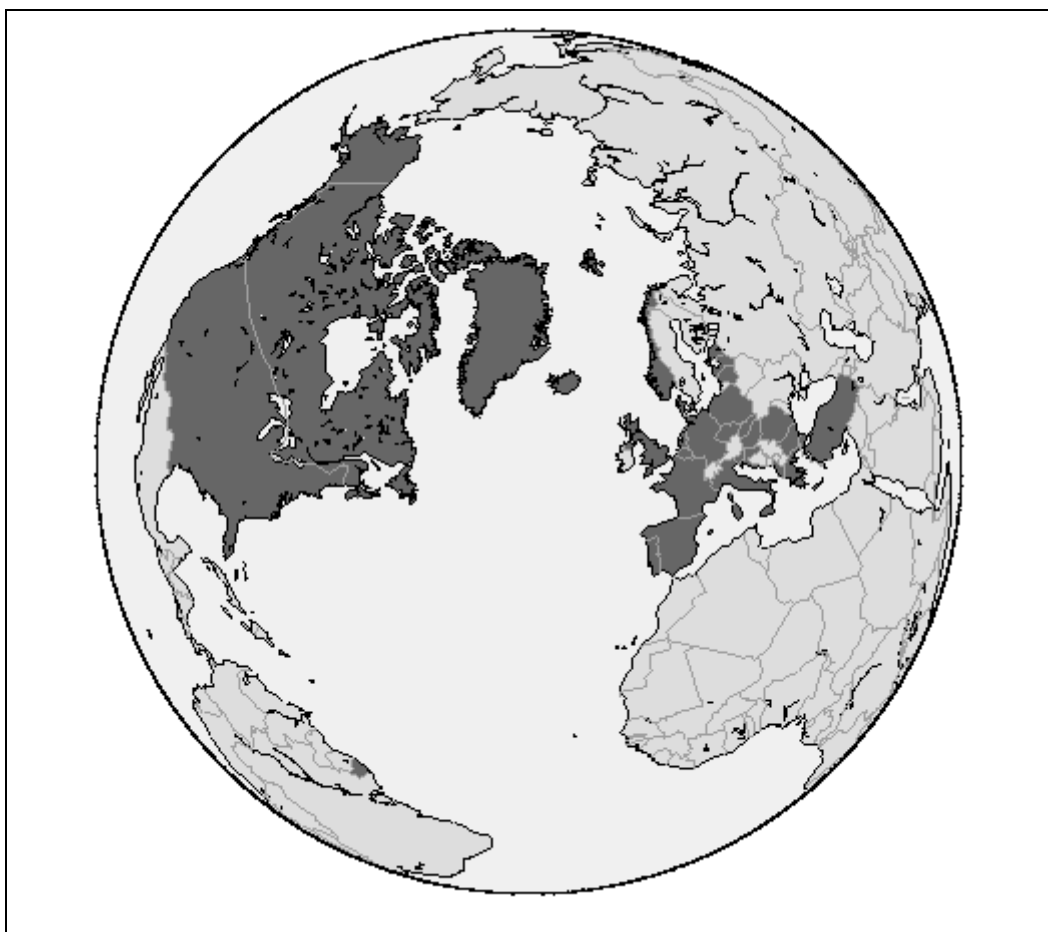
(Naše společná budoucnost, upraveno)

2 body

44 Která z následujících strategií řešení globálních problémů je popsána ve výchozím textu?

- A) trvale udržitelný rozvoj
- B) antiglobalizační proces
- C) strategie zachování života
- D) zásada kolektivní odpovědnosti

VÝCHOZÍ OBRÁZEK K ÚLOZE 45



(www.google.cz)

2 body

45 Na výchozím obrázku jsou tmavě označeny všechny členské státy jedné mezinárodní organizace. Které?

- A) Severoatlantické aliance
- B) Organizace spojených národů
- C) Organizace zemí vyvážejících ropu
- D) Severoamerické dohody o volném obchodu

ZKONTROLUJTE, ZDA JSTE DO ZÁZNAMOVÉHO ARCHU UVEDL/A VŠECHNY ODPOVĚDI.