

Konal(a) zkoušku

Vyloučen(a)

Nepřítomen(na) či nedokončil(a)

MATEMATIKA 7C

List 1 ze 2

Jméno
a příjmení

DIDAKTICKÝ TEST – STRANA 1–4

1

2

2.1

2.2

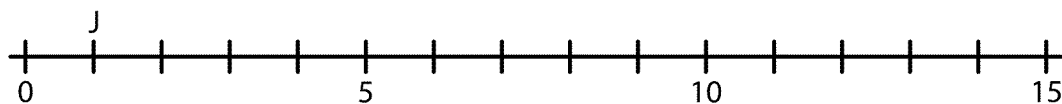
3

Uvedte postup řešení.

3.1

3.2

4



5

5.1

5.2

5.3

6

Uvedte postup řešení.

Výsledky:

6.1

6.2

6.3

6.4

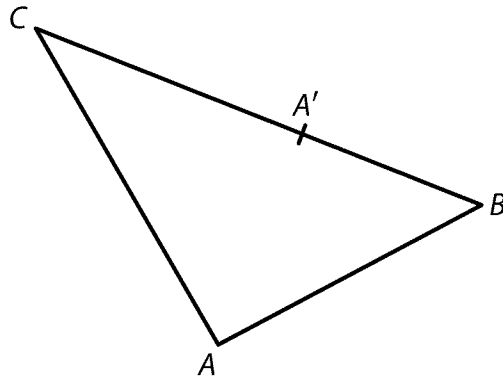
7

Uvedte postup řešení.

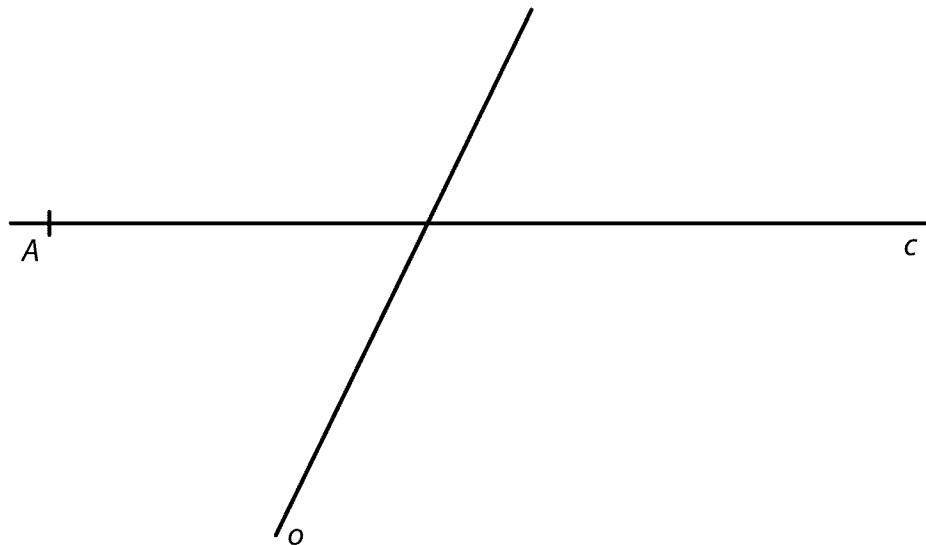
7.1

7.2

8. Obtáhněte vše propisovací tužkou.
8.1–8.2



9. Obtáhněte vše propisovací tužkou.



10 A N
10.1
10.2
10.3

A B C D E
11
12
13
14

15 A B C D E F
15.1
15.2
15.3

16 16.1 16.2 16.3